

La zona en la que ens trobem **forma part de la depressió Central**.

Tot i que les depressions són extensions planes de terra sense desnivells importants, a Catalunya no es ben bé així, **no és completament pla**. El **relleu és força variat amb turons, valls planes i altiplans**, i s'hi concentren la major part dels conreus de Catalunya.



Aquests lloc concret, **La Serrabrisa**, és un tossal de l'època del terciari (fa 30 milions d'anys). Tota la plana de Lleida era el fons d'un mar.

En aquella època l'alçada que tenia la plana i que s'ha anat erosionant ve donada en aquesta cota. **Imageneu la quantitat de terra que s'ha erosionat i marxat!!**




**Creieu que hi ha altres factors que han contribuït a dur a terme aquesta erosió? Quins?** \_\_\_\_\_

Amb l'erosió es van formar aquestes coves, estratificacions típiques de margues i gresos. Algunes de les **vaumes** que es veuen a les fotos del Capa, ja no hi son.

**Us animeu a identificar les que queden i podrem veure al llarg del recorregut?**

## Situació geogràfica

Un cop identificada l'imatge etiqueteu-la amb el número del plafó de la ruta corresponent?



Localitzeu i identifiqueu aquestes zones al llarg del recorregut.

